

دبستان دخترانه غیر دولتی ترفج دانش



نام درس: ریاضی

کلاس: (رسم)

نام و نام خانوادگی:

تاریخ: ۱۳۹۱/۳/۵

نام آموزگار: گلرنگی

۱- با کارت‌های ۴ و ۳ و ۷ تمام عددهای سه رقمی را بنویس، کوچکترین و بزرگترین را مشخص کن.

بزرگترین:

کوچکترین:

با عدد و حروف بنویسید.

۹۱۰	صد و دو	
۷۳۸	ششصد و نود و سه	

۲- در جای خالی، عدد مناسب بنویس.

الف) ۱۵ میلی‌متر، همان سانتی‌متر و میلی‌متر است.

ب) ۳۰ میلی‌متر، همان سانتی‌متر است.

۳- قد لیلا ۱۳۸ سانتی‌متر است، خواهرش فاطمه ۱۵ سانتی‌متر از او بلندتر است،


قد این دو نفر روی هم چند سانتی‌متر است؟

۴- علی ساعت ۷ و ۴۵ دقیقه از منزل خارج می‌شود و

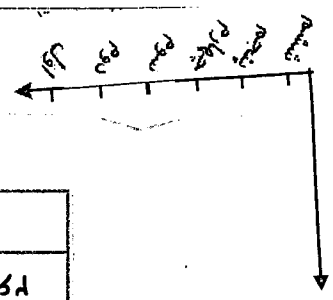
یک ربع بعد به مدرسه می‌رسد. علی چه ساعتی به

مدرسه می‌رسد، با رسم شکل نشان دهید.

۵- برای شکل زیر یک جمله بنویس.



..... تا تایی می‌شود



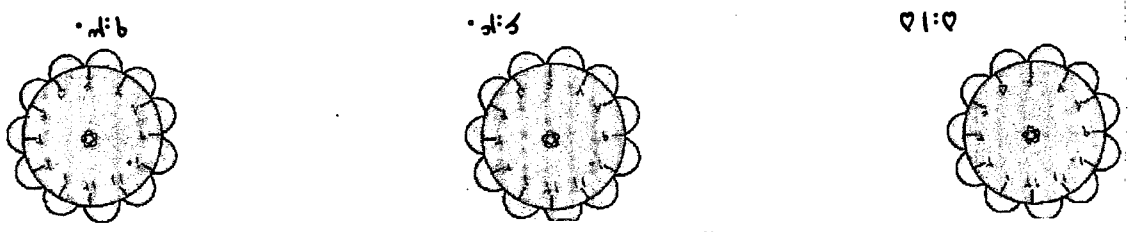
۱۰ هر ۱۰ دانش آموز را با (۵۵) نشان دهنده، نمودار زیر را کامل کن.

تعداد تقریبی						
تعداد دانش آموزان	۸۷	۸۷	۱۴	۱۷	۲۲	۲۴
کلاس	اول	دوم	سوم	چهارم	پنجم	ششم

۱۲ -

تعداد دانش آموزان را به صورت تقریبی در جدول زیر بنویس.

تعداد دانش آموزان یک مدرسه در جدول زیر آمده است.



۱۱ -

زمان های مشخص شده را روی ساعت نشان بده. (با کشیدن عقربه ها)

۱۳) شانس بیرون آمدن چه رنگی از همه از کمره است؟

۱۴) شانس بیرون آمدن چه رنگی از همه بیشتر است؟

۱۵ - در کتبی ۸ مهری قرمز، ۴ مهری نارنجی، ۲ مهری سبز و ۲ مهری آبی وجود دارد.

جزوه نسیبی

$$\begin{array}{r} ۴۲۶ \\ + ۳۳۵ \\ \hline \end{array}$$

$$\begin{array}{r} ۸۱۰ \\ - ۸۲ \\ \hline \end{array}$$

۱۶ حاصل جمع و تفریق زیر را بنویس و آوری.

تعداد ضلع				
نام شکل				
شکل				

۱۷ -

جدول زیر را کامل کن.

۱۸ هر قطعه ساختمانی با ۴ چینه درست شده است. یک ساختمان ۳ طبقه چند چینه دارد؟

نام دانش آموز: _____ تاریخ: _____
 نام و نام خانوادگی: _____ کلاس: _____ نام درس: _____
 دبستان دخترانه نسیبی